

Mesure de masses - Évaluation

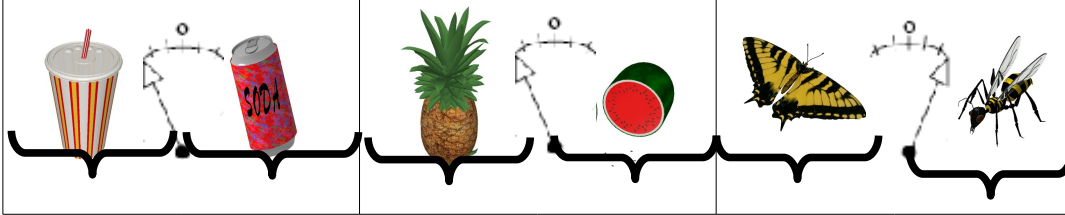


/20

0

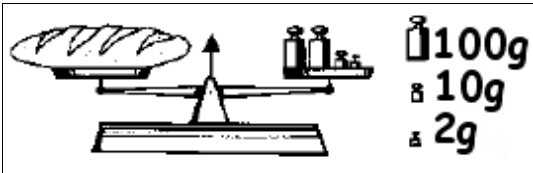
1. Écris «qui» est le plus lourd pour chaque pesée :

/3

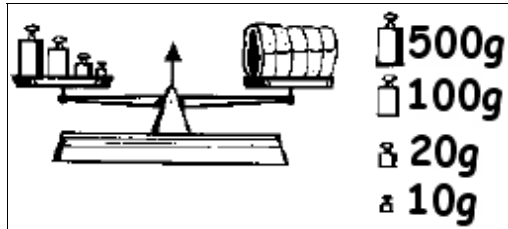


2. Calcule la masse de chaque objet :

/4



Le pain a une masse de g.



Le rôti a une masse de g.

3. Mets des croix pour chaque masse ou calcule la masse qui a été pesée. /6

| | 500g | 200g | 100g | 100g | 50g | 20g | 10g | 10g | 5g | 2g | 2g | 1g |
|------|------|------|------|------|-----|-----|-----|-----|----|----|----|----|
| 645g | X | | X | | | X | X | X | X | | | |
| 327g | | | | | | | | | | | | |
| 872g | | | | | | | | | | | | |
| | X | X | | | X | X | | | | | | X |
| | | | X | X | | | X | X | X | X | | |

4. Colorie la bonne masse pour chaque objet :

/7

| | | | |
|--------------------|------|-------|------|
| Une feuille | 2 g | 2 kg | 2 T |
| Un chewing-gum | 10 g | 10 kg | 10 T |
| Un avion | 27 g | 27 kg | 27 T |
| Un cartable rempli | 3 g | 3 kg | 3 T |
| Un chocolat | 20 g | 20 kg | 20 T |
| Un bureau | 7 g | 7 kg | 7 T |
| Un car | 4 g | 4 kg | 4 T |

Mesure de masses - Évaluation

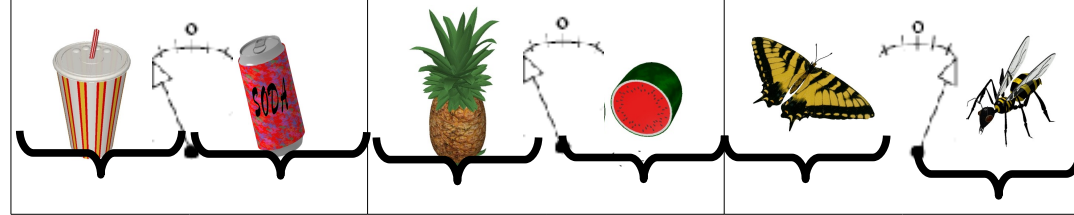


/20

0

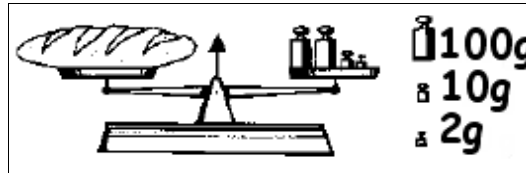
1. Écris «qui» est le plus lourd pour chaque pesée :

/3

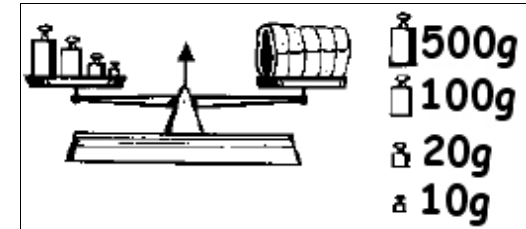


2. Calcule la masse de chaque objet :

/4



Le pain a une masse de g.



Le rôti a une masse de g.

3. Mets des croix pour chaque masse ou calcule la masse qui a été pesée. /6

| | 500g | 200g | 100g | 100g | 50g | 20g | 10g | 10g | 5g | 2g | 2g | 1g |
|------|------|------|------|------|-----|-----|-----|-----|----|----|----|----|
| 645g | X | | X | | | X | X | X | X | | | |
| 327g | | | | | | | | | | | | |
| 872g | | | | | | | | | | | | |
| | X | X | | | X | X | | | | | | X |
| | | | X | X | | | X | X | X | X | | |

4. Colorie la bonne masse pour chaque objet :

/7

| | | | |
|--------------------|------|-------|------|
| Une feuille | 2 g | 2 kg | 2 T |
| Un chewing-gum | 10 g | 10 kg | 10 T |
| Un avion | 27 g | 27 kg | 27 T |
| Un cartable rempli | 3 g | 3 kg | 3 T |
| Un chocolat | 20 g | 20 kg | 20 T |
| Un bureau | 7 g | 7 kg | 7 T |
| Un car | 4 g | 4 kg | 4 T |