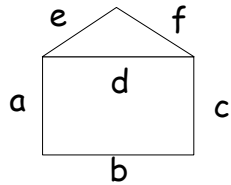


# Mesures de longueurs - Révisions



## 1. Mesure les segments de la maison :



Segment a : .....
Segment b : .....
Segment c : .....
Segment d : .....
Segments e et f : .....

## 2. Trace les segments suivants :

Segment g de 3 cm	Segment h de 5 cm et 7 mm	Segment i de 8 et 2 mm
-------------------	---------------------------	------------------------

## 3. Colorie chaque dessin avec sa mesure :

14 cm	3 m	42 m	2 cm	8 mm

## 4. Complète avec l'unité qui convient, mm, cm, m :

- a) La hauteur de l'école 6 .....
- b) Un chewing-gum 2 .....
- c) Une chaussure 20 .....
- d) Une grande roue 30 .....
- e) Une poussière 1 .....

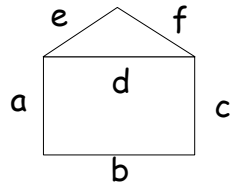
## 5. Trouve et écris le nom des objets suivants :

2 objets qui se mesurent en mm .....
2 objets qui se mesurent en cm .....
2 objets qui se mesurent en m .....

# Mesures de longueurs - Révisions



## 1. Mesure les segments de la maison :



Segment a : .....
Segment b : .....
Segment c : .....
Segment d : .....
Segments e et f : .....

## 2. Trace les segments suivants :

Segment g de 3 cm	Segment h de 5 cm et 7 mm	Segment i de 8 et 2 mm
-------------------	---------------------------	------------------------

## 3. Colorie chaque dessin avec sa mesure :

14 cm	3 m	42 m	2 cm	8 mm

## 4. Complète avec l'unité qui convient, mm, cm, m :

- a) La hauteur de l'école 6 .....
- b) Un chewing-gum 2 .....
- c) Une chaussure 20 .....
- d) Une grande roue 30 .....
- e) Une poussière 1 .....

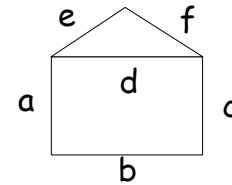
## 5. Trouve et écris le nom des objets suivants :

2 objets qui se mesurent en mm .....
2 objets qui se mesurent en cm .....
2 objets qui se mesurent en m .....

# Mesures de longueurs - Révisions



## 1. Mesure les segments de la maison :



Segment a : .....
Segment b : .....
Segment c : .....
Segment d : .....
Segments e et f : .....

## 2. Trace les segments suivants :

Segment g de 3 cm	Segment h de 5 cm et 7 mm	Segment i de 8 et 2 mm
-------------------	---------------------------	------------------------

## 3. Colorie chaque dessin avec sa mesure :

14 cm	3 m	42 m	2 cm	8 mm

## 4. Complète avec l'unité qui convient, mm, cm, m :

- a) La hauteur de l'école 6 .....
- b) Un chewing-gum 2 .....
- c) Une chaussure 20 .....
- d) Une grande roue 30 .....
- e) Une poussière 1 .....

## 5. Trouve et écris le nom des objets suivants :

2 objets qui se mesurent en mm .....
2 objets qui se mesurent en cm .....
2 objets qui se mesurent en m .....