

Tracer et mesurer des segments



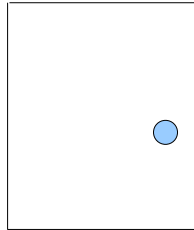
O Savoir positionner sa règle correctement pour mesurer ou tracer un segment

1. Trace sur ton cahier bleu les segments suivants :

Segment A	Segment B	Segment C	Segment D	Segment E
6 cm	9 cm	8 cm et 3 mm	5 cm et 5 mm	2 cm et 7 mm

2. Mesure les segments de cette porte :

Colorie chaque segment d'une couleur avec la mesure que tu vas écrire.



.....
.....
.....
.....

3. Sur ton cahier, reproduis ces rectangles :

Il faut mesurer d'abord chaque côté avant de les tracer sur ton cahier.



Tracer et mesurer des segments



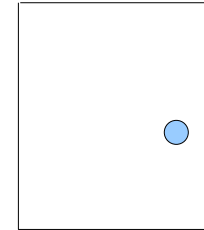
O Savoir positionner sa règle correctement pour mesurer ou tracer un segment

1. Trace sur ton cahier bleu les segments suivants :

Segment A	Segment B	Segment C	Segment D	Segment E
6 cm	9 cm	8 cm et 3 mm	5 cm et 5 mm	2 cm et 7 mm

2. Mesure les segments de cette porte :

Colorie chaque segment d'une couleur avec la mesure que tu vas écrire.



.....
.....
.....
.....

3. Sur ton cahier, reproduis ces rectangles :

Il faut mesurer d'abord chaque côté avant de les tracer sur ton cahier.



Tracer et mesurer des segments



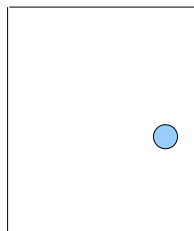
O Savoir positionner sa règle correctement pour mesurer ou tracer un segment

1. Trace sur ton cahier bleu les segments suivants :

Segment A	Segment B	Segment C	Segment D	Segment E
6 cm	9 cm	8 cm et 3 mm	5 cm et 5 mm	2 cm et 7 mm

2. Mesure les segments de cette porte :

Colorie chaque segment d'une couleur avec la mesure que tu vas écrire.



.....
.....
.....
.....

3. Sur ton cahier, reproduis ces rectangles :

Il faut mesurer d'abord chaque côté avant de les tracer sur ton cahier.



Tracer et mesurer des segments



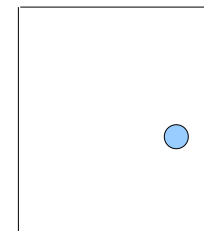
O Savoir positionner sa règle correctement pour mesurer ou tracer un segment

1. Trace sur ton cahier bleu les segments suivants :

Segment A	Segment B	Segment C	Segment D	Segment E
6 cm	9 cm	8 cm et 3 mm	5 cm et 5 mm	2 cm et 7 mm

2. Mesure les segments de cette porte :

Colorie chaque segment d'une couleur avec la mesure que tu vas écrire.



.....
.....
.....
.....

3. Sur ton cahier, reproduis ces rectangles :

Il faut mesurer d'abord chaque côté avant de les tracer sur ton cahier.

