

# Les fractions

1 2  
3


1. Colorie la fraction qui correspond à la bonne appellation :

| La moitié     | Le tiers      | Le quart      |
|---------------|---------------|---------------|
| $\frac{1}{4}$ | $\frac{1}{2}$ | $\frac{1}{3}$ |

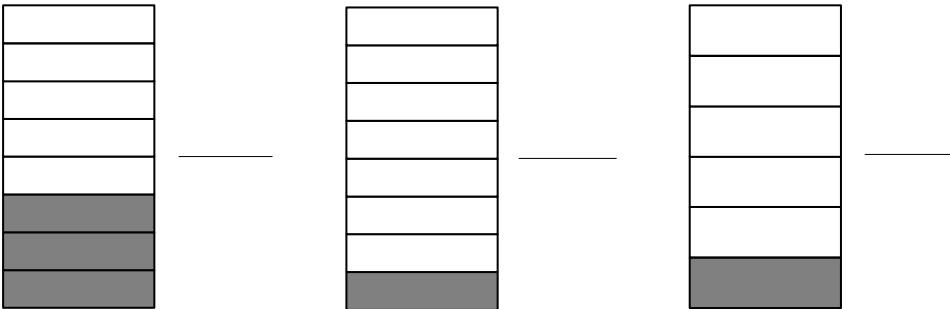
2. Écris les fractions à côté des portions dessinées.

Entoure les bonnes doses dont tu as besoin pour faire un gâteau au chocolat :

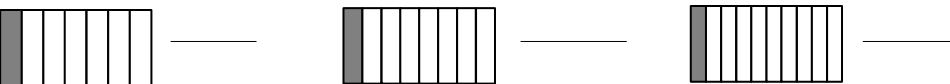
- La moitié de la barquette de beurre



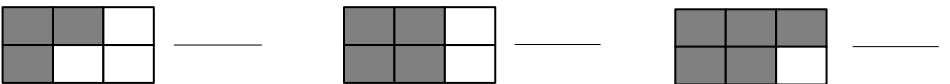
- 1/8 du paquet de farine



- 1/8 du paquet de sucre



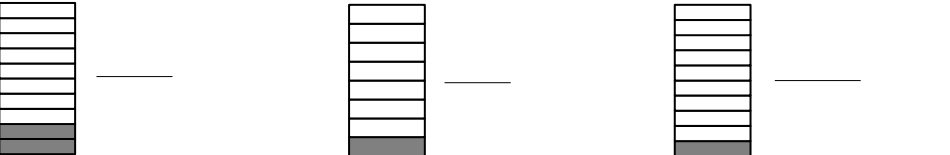
- La moitié de la boîte de 6 œufs



- Le tiers de la tablette de chocolat



- 1/10 de la bouteille de lait



# Les fractions

1 2  
3


1. Colorie la fraction qui correspond à la bonne appellation :

| La moitié     | Le tiers      | Le quart      |
|---------------|---------------|---------------|
| $\frac{1}{4}$ | $\frac{1}{2}$ | $\frac{1}{3}$ |

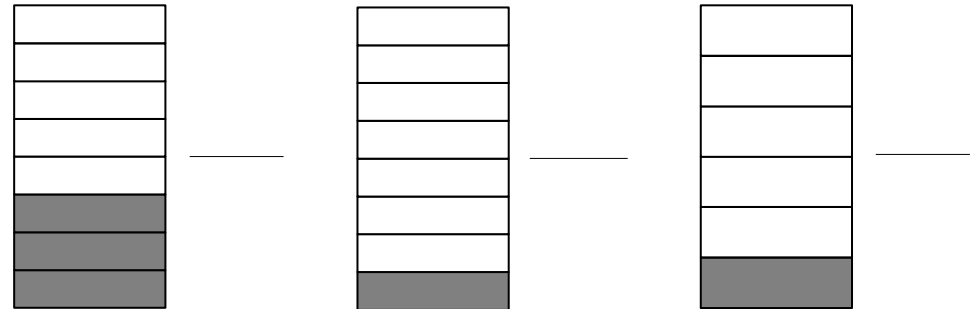
2. Écris les fractions à côté des portions dessinées.

Entoure les bonnes doses dont tu as besoin pour faire un gâteau au chocolat :

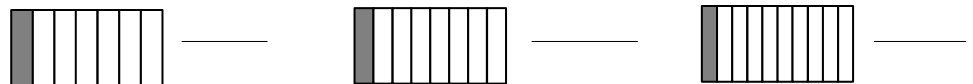
- La moitié de la barquette de beurre



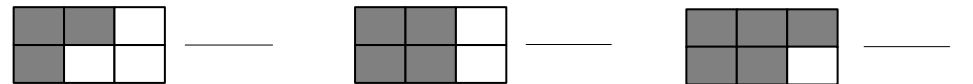
- 1/8 du paquet de farine



- 1/8 du paquet de sucre



- La moitié de la boîte de 6 œufs



- Le tiers de la tablette de chocolat



- 1/10 de la bouteille de lait

