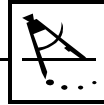
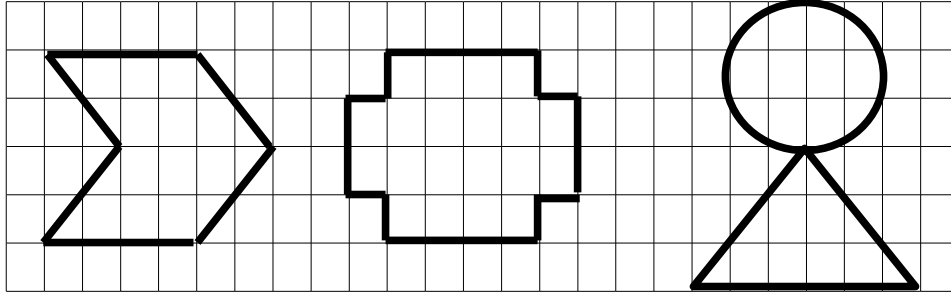


Tracer des axes de symétrie

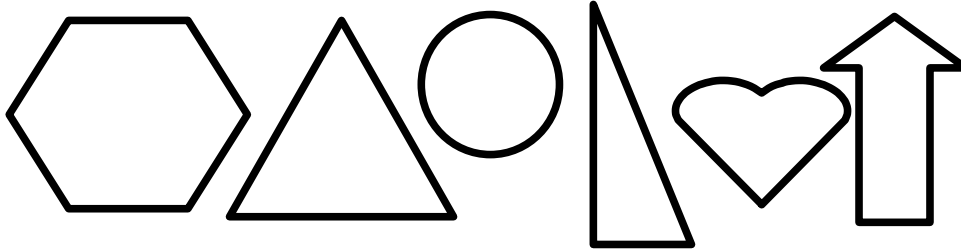


O Savoir tracer un axe de symétrie.

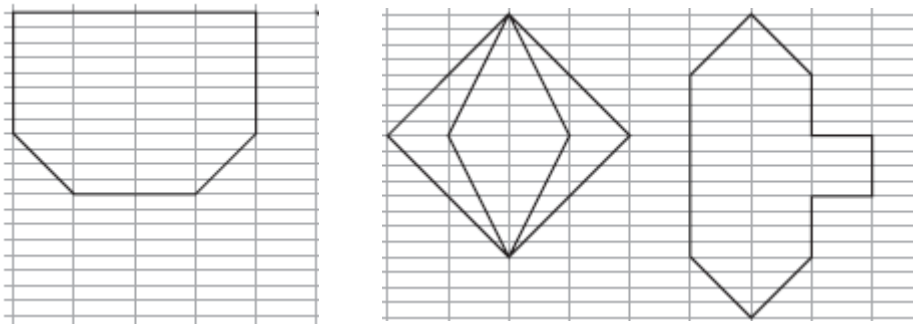
1. Trace le ou les axes de symétrie de ces figures :



2. Trace le ou les axes de symétrie de ces figures. Entoure l'intrus.



3. Trace ces trois figures sur ton cahier bleu, ensuite trace les axes de symétrie :

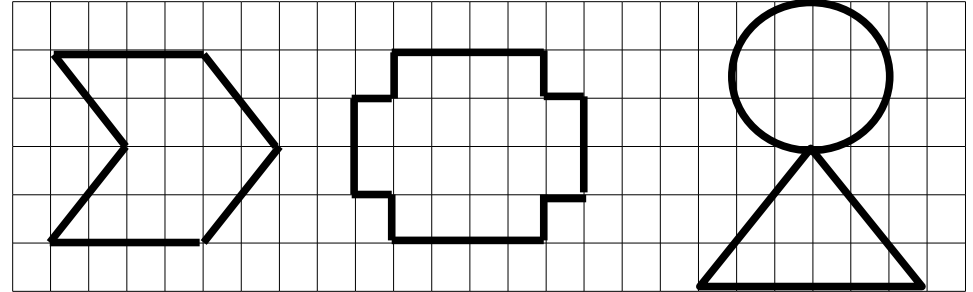


Tracer des axes de symétrie

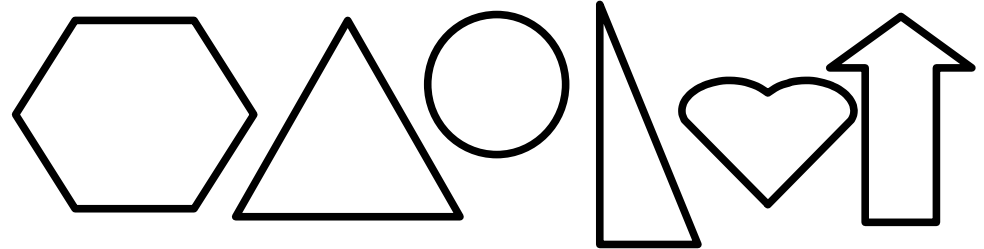


O Savoir tracer un axe de symétrie.

1. Trace le ou les axes de symétrie de ces figures :



2. Trace le ou les axes de symétrie de ces figures. Entoure l'intrus.



3. Trace ces trois figures sur ton cahier bleu, ensuite trace les axes de symétrie :

