

## Les droites parallèles

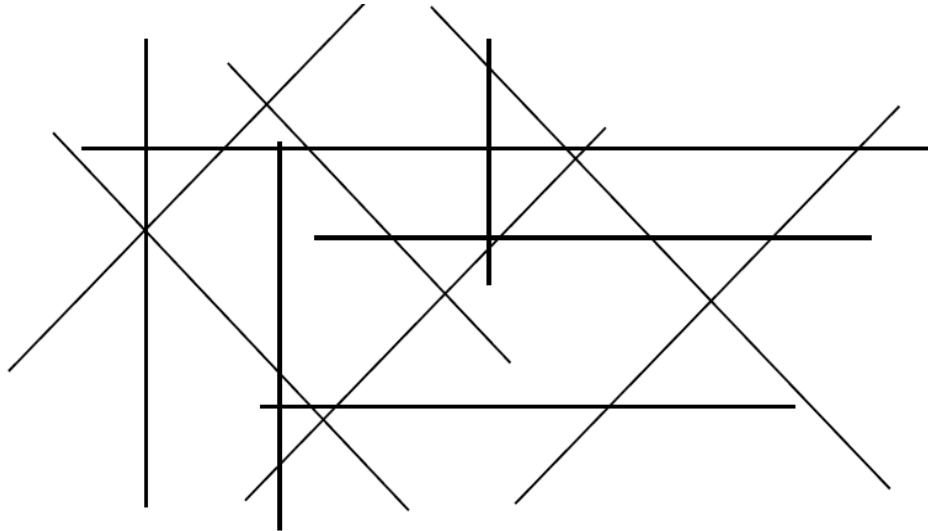
Prénom : .....

Date : .....

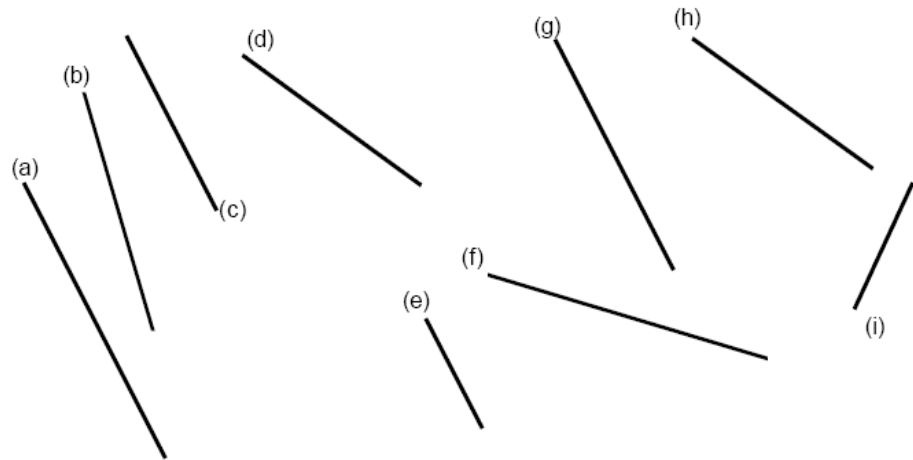
O Reconnaître des droites parallèles



1. **Colorie les droites parallèles d'une même couleur :**



2. **Entoure dans le tableau les lettres des droites parallèles à la droite (a) :**



(a) est parallèle à	(b)	(c)	(d)	(e)	(f)	(g)	(h)	(i)
---------------------	-----	-----	-----	-----	-----	-----	-----	-----

## Les droites parallèles

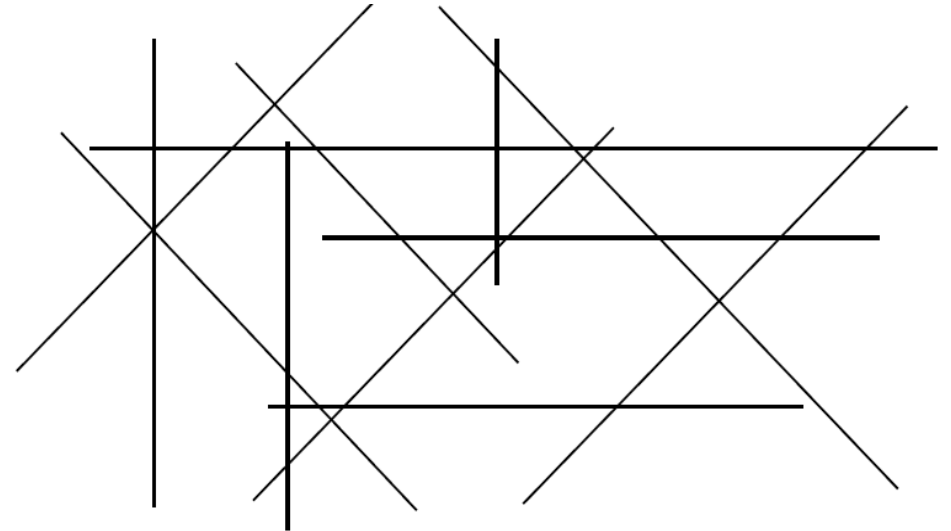
Prénom : .....

Date : .....

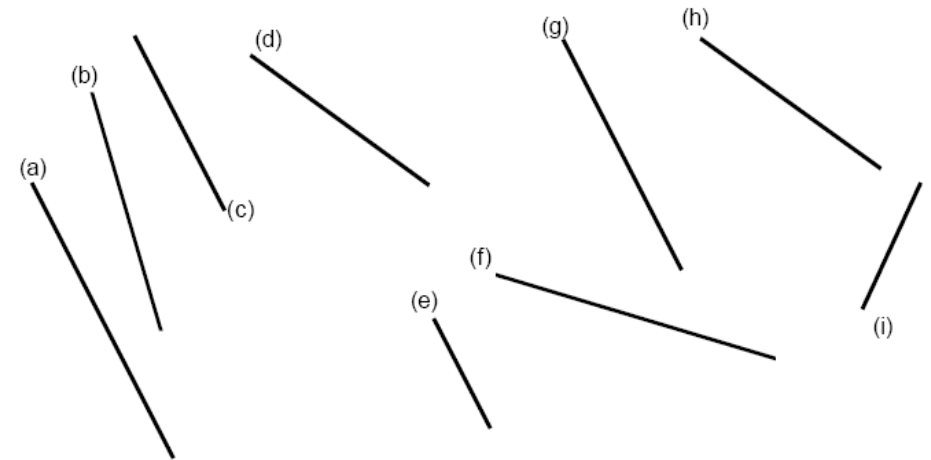
O Reconnaître des droites parallèles



1. **Colorie les droites parallèles d'une même couleur :**



2. **Entoure dans le tableau les lettres des droites parallèles à la droite (a) :**



(a) est parallèle à	(b)	(c)	(d)	(e)	(f)	(g)	(h)	(i)
---------------------	-----	-----	-----	-----	-----	-----	-----	-----